





TIMARAKA: 40

Memorandamu lowu wu na 4 wa tipheji.

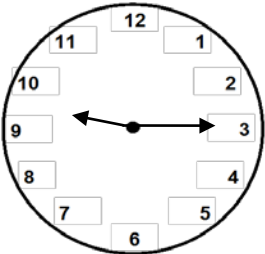
1. Nyika timaraka leti heheleke eka tinhlamulo ntsena, handle ka loko swi vuriwile.
2. Amukela nhlamulo yin'wana na yin'wana leyi nga va ka yona, hambiloko yi nga katsiwanga eka memorandamu handle ka loko swi vuriwile.

U NGA NYIKI HAFU YA MARAKA.

XIVUTISO	TINHLAMULO LETI LANGUTERIWEKE		TIMARAKA
1.	467; 476; 647; 674 ✓	Maraka yi1 eka ndzandzelelano lowu nga wona <b>ntsena</b> naswona tinomboro hinkwato ti fanele ku va kona.	1
2.	532; 432; 332 ✓		1
3.	C ✓	Amukela hambiloko nhlamulo yi kombisiwile hi ndlela <b>yih kumbe yih</b> .	1
4.	B ✓		1
5.	B ✓		1
6.	D ✓		1
7.	 ✓	<ul style="list-style-type: none"> <li>• Amukela makombiselo <b>man'wana na man'wana</b> lama nga wona ya swivumbeko.</li> </ul>	1
8.	575; 550; 525 ✓	<ul style="list-style-type: none"> <li>• Maraka yi1 eka ndzandzelelano lowu nga wona <b>ntsena</b> naswona tinomboro hinkwato na swivumbeko hinkwaswo swi fanele ku va kona.</li> </ul>	1
9.	Khoni <b>kumbe</b> fanele ✓	<ul style="list-style-type: none"> <li>• Amukela nhlamulo leyi nga yona hi ririmi <b>rin'wana na rin'wana</b> ra ximfumu.</li> <li>• U nga xupuli eka swihoxo swa mapeletelo.</li> </ul>	1
10.	Yinhlantarhu ✓		1
11.		Amukela ntila <b>wun'wana na wun'wana</b> ntsena loko wu komba ndzinganiso.	1

XIVUTISO	TINHLAMULO LETI LANGUTERIWEKE		TIMARAKA
12.	398 ✓		1
13.	<p style="text-align: center;">✓</p> Madzanambirhi makumenkombontlhanu	<ul style="list-style-type: none"> <li>Amukela nhlamulo leyi nga yona hi ririmi <b>rin'wana na rin'wana</b> ra ximfumu.</li> <li>U nga xupuli eka swihoxo swa mapeletelo.</li> </ul>	1
14.	40/makume mune <b>kumbe</b> 4 wa makume ✓		1
15.	60 ✓		1
16.	b ✓	Amukela nhlamulo leyi nga yona loko yi leyi kombisiweke hi ndlela <b>yin'wana na yin'wana</b> .	1
17.	b ✓		1
18.1	3/nharhu ✓		1
18.2	<p>1 xanharhu/n'we xanharhu/<math>\frac{1}{3}</math> ✓</p> <p style="text-align: center;"><b>kumbe</b></p> <p>3 xakaye/nharhu xakaye/<math>\frac{3}{9}</math> ✓</p>		1
19.	$19 + 19 + 19 \quad \checkmark$ $= 10 + 10 + 10 + 9 + 9 + 9$ $= 30 + 27$ $= 57 \quad \checkmark$ <p><b>Kumbe</b></p> $3 \times 19$ $= 3 \times (10+9)$ $= 3 \times 10 + 3 \times 9$ $= 30 + 27$ $= 57 \quad \checkmark$ <p><b>kumbe</b></p> $57 \quad \checkmark \checkmark$	<ul style="list-style-type: none"> <li>Maraka yi1 eka maendlelo <b>man'wana na man'wana</b> lama nga wona na maraka yi 1 ya nhlamulo leyi nga yona.</li> <li>Timaraka ti2 eka nhlamulo leyi nga yona <b>ntsena</b>.</li> </ul>	2

XIVUTISO	TINHLAMULO LETI LANGUTERIWEKE		TIMARAKA
20.	28 ✓		1
21.	$75 \div 5$ $= (40 + 35) \div 5$ ✓ $= (40 \div 5) + (35 \div 5)$ $= 8 + 7$ $= 15$ ✓ <b>kumbe</b> $15$ ✓✓	<ul style="list-style-type: none"> <li>• Maraka yi1 eka maendlelo <b>man'wana na man'wana</b> lama nga wona na maraka yi 1 ya nhlamulo leyi nga yona.</li> <li>• Timaraka ti2 eka nhlamulo leyi nga yona <b>ntsena</b>.</li> </ul>	2
22.1	3/nharhu ✓		1
22.2	8/nhungu ✓		1
23.	$158 + 31 \rightarrow 158 + 30 + 1 \rightarrow 188 + 1 \rightarrow 189$ ✓ <b>kumbe</b> $189$ ✓✓	<ul style="list-style-type: none"> <li>• Maraka yi1 eka maendlelo <b>man'wana na man'wana</b> lama nga wona na maraka yi 1 ya nhlamulo leyi nga yona.</li> <li>• Timaraka ti2 eka nhlamulo leyi nga yona <b>ntsena</b>.</li> </ul>	2
24.	$786 - 421$ $= 700 + 80 + 6 - 400 - 20 - 1$ $= 700 - 400 + 80 - 20 + 6 - 1$ ✓ $= 300 + 60 + 5$ $= 365$ ✓ <b>kumbe</b> $6 - 1 = 5$ na $80 - 20 = 60$ ✓ na $700 - 400 = 300$ swi vula leswaku $786 - 421 = 365$ ✓	<p>Maraka yi1 eka maendlelo <b>man'wana na man'wana</b> ya ku 'lhantlha' lama ya nga wona na maraka yi 1 ya nhlamulo leyi nga yona.</p>	2
25.1	35 ✓		1
25.2	15 ✓		1

XIVUTISO	TINHLAMULO LETI LANGUTERIWEKE	TIMARAKA	
26.	$R15,00 + R10,00 + R5,00 = R30,00$ ✓ <b>kumbe</b> $R30$ ✓✓	<ul style="list-style-type: none"> <li>Maraka yi1 eka maendlelo <b>man'wana na man'wana</b> lama nga wona na maraka yi 1 ya nhlamulo leyi nga yona.</li> <li>Timaraka ti2 eka nhlamulo leyi nga yona <b>ntsena</b>.</li> </ul>	2
27.1	500 ✓	1	
27.2	10,00 <b>kumbe</b> 10 ✓	1	
28.	$35 \div 5$ $= (30 + 5) \div 5$ $= (30 \div 5) + (5 \div 5)$ $= 6 + 1$ ✓ $= 7$ ✓ <b>kumbe</b> $7$ ✓✓	<ul style="list-style-type: none"> <li>Maraka yi1 eka maendlelo <b>man'wana na man'wana</b> lama nga wona na maraka yi 1 ya nhlamulo leyi nga yona.</li> <li>Timaraka ti2 eka nhlamulo leyi nga yona <b>ntsena</b>.</li> </ul>	2
29.		<p>Voko ro leha ri <b>fanele</b> ku va eka 3 kasi lero koma ri <b>fanele</b> ku va emahlweninyana ka 9.</p>	1
30.	$50 + 50 + 50 = 150$ <b>kumbe</b> $50 + 50 + 50$ ✓ <b>kumbe</b> $3 \times 50 = 150$ <b>kumbe</b> $3 \times 50$ ✓		1
<b>NTSENGO: 40</b>			