



# basic education

Department:  
Basic Education  
**REPUBLIC OF SOUTH AFRICA**

**NASIONALE  
SENIOR SERTIFIKAAT**

**GRAAD 12**

**EKONOMIE V2  
NOVEMBER 2023**

**PUNTE: 150**

**TYD: 2 uur**

**Hierdie vraestel bestaan uit 12 bladsye.**

**INSTRUKSIES EN INLIGTING**

1. Beantwoord VIER vrae soos volg in die ANTWOORDEBOEK:  
  
AFDELING A: VERPLIGTEND  
AFDELING B: Beantwoord TWEE van die drie vrae.  
AFDELING C: Beantwoord EEN van die twee vrae.
2. Beantwoord slegs die vereiste getal vrae. Addisionele antwoorde sal NIE nagesien word NIE.
3. Nommer die antwoorde korrek volgens die nommeringstelsel wat in hierdie vraestel gebruik is.
4. Skryf die vraagnommer boaan elke antwoord.
5. Lees die vrae aandagtig deur.
6. Begin ELKE vraag op 'n NUWE bladsy.
7. Laat 2–3 reëls tussen onderafdelings van vrae oop.
8. Beantwoord die vrae in volsinne en maak seker dat die formaat, inhoud en konteks van jou antwoorde aan die kognitiewe vereistes van die vrae voldoen.
9. Gebruik slegs swart of blou ink.
10. Jy mag 'n nieprogrammeerbare sakrekenaar gebruik.
11. Skryf netjies en leesbaar.

**AFDELING A (VERPLIGTEND)****VRAAG 1****30 PUNTE – 20 MINUTE**

- 1.1 Verskeie opsies word as moontlike antwoorde op die volgende vrae gegee. Kies die antwoord en skryf slegs die letter (A–D) langs die vraagnommers (1.1.1 tot 1.1.8) in die ANTWOORDEBOEK neer, bv. 1.1.9 D.
- 1.1.1 Die koste wat nie met die uitsette verander nie, word ... koste genoem.
- A veranderlike
  - B gemiddelde
  - C vaste
  - D basiese
- 1.1.2 Die verwydering van reëls en prosedures om gemaklike toegang van nuwe firmas in die mark toe te laat, word ... genoem.
- A deregulering
  - B vrye mark
  - C aanpassing
  - D markoorheersing
- 1.1.3 Die voordeel verkry deur 'n derde party wat nie by die markprys ingesluit is nie, staan as ... eksternaliteite bekend.
- A interne
  - B positiewe
  - C negatiewe
  - D marginale
- 1.1.4 Werklike besteding van 'n besigheid op insette benodig vir produksie, word ... koste genoem.
- A implisiete
  - B totale
  - C gemiddelde
  - D eksplisiete
- 1.1.5 Die koers waarteen die sentrale bank geld aan handelsbanke leen, word ...-koers genoem.
- A prima
  - B bank
  - C repo
  - D inflasie
- 1.1.6 Godsdienstige geleenthede word onder ... toerisme geklassifiseer.
- A eko-
  - B mediese
  - C sake-
  - D kulturele

1.1.7 Die internasionale protokol en ooreenkoms wat fokus op die uitwissing van armoede as een van hulle doelwitte, staan as die ... bekend.

- A Rio+20-beraad
- B Millenniumontwikkelingsdoelwitte
- C Johannesburg-beraad
- D Wêreldberaad oor Volhoubare Ontwikkeling

1.1.8 Die vermoë van die omgewing om sy gebruik vir ekonomiese aktiwiteite te oorleef, staan as ... bekend.

- A volhoubaarheid.
- B ontbossing.
- C deregulering.
- D erosie.

(8 x 2) (16)

1.2 Kies 'n beskrywing uit KOLOM B wat by die item in KOLOM A pas. Skryf slegs die letter (A–I) langs die vraagnommers (1.2.1 tot 1.2.8) in die ANTWOORDEBOEK neer, bv. 1.2.9 J.

| KOLOM A |                      | KOLOM B |   |
|---------|----------------------|---------|---|
| 1.2.1   | Kort termyn          | A       | waar goedere onwettig gekoop en verkoop word  |
| 1.2.2   | Duopolie             | B       | 'n baken of gebied wat deur die Verenigde Nasies gekies is wat kulturele, historiese of 'n ander vorm van betekenis het |
| 1.2.3   | Swartmark            | C       | die verskeidenheid plant- en dierelewe in 'n bepaalde habitat   |
| 1.2.4   | Merietegoedere       | D       | 'n proses waar bome uit die grond verwyder en nie vervang word nie  |
| 1.2.5   | Produsenteprysindeks | E       | die periode van produksie waar ten minste een van die produksiefaktore konstant bly                                     |
| 1.2.6   | Geweegde indeks      | F       | meet die prys van goedere soos dit die fabriek se vloer verlaat   |
| 1.2.7   | Wêrelderfenisterrein | G       | 'n mark wat deur twee firmas gedomineer word  |
| 1.2.8   | Ontbossing           | H       | toon die relatiewe belangrikheid van 'n item in 'n mandjie goedere en dienste wat gebruik word om inflasie te bereken   |
|         |                      | I       | hoogs wenslik vir die algemene welsyn van die samelewing  |

(8 x 1) (8)

- 1.3 Gee EEN term vir elk van die volgende beskrywings. Skryf slegs die term langs die vraagnommers (1.3.1 tot 1.3.6) in die ANTWOORDEBOEK neer. Afkortings, akronieme en voorbeelde sal NIE aanvaar word NIE.
- 1.3.1 'n Markstruktuur wat 'n unieke produk produseer met geen naby substitute nie
- 1.3.2 Wanneer die gemiddelde inkomste groter as die gemiddelde koste van 'n firma is
- 1.3.3 'n Prys vasgestel onder die markewewig om goedere vir verbruikers bekostigbaar te maak
- 1.3.4 'n Baie hoë styging in pryse wat 50% per maand oorskry
- 1.3.5 Tradisionele maniere van dinge doen wat uniek is tot 'n gegewe kultuur
- 1.3.6 'n Lisensie gegee aan besighede om tot 'n sekere limiet te besoedel (6 x 1) (6)
- TOTAAL AFDELING A: 30**

**AFDELING B**

Beantwoord enige TWEE van die drie vrae in hierdie afdeling in die ANTWOORDEBOEK.

**VRAAG 2: MIKRO-EKONOMIE**

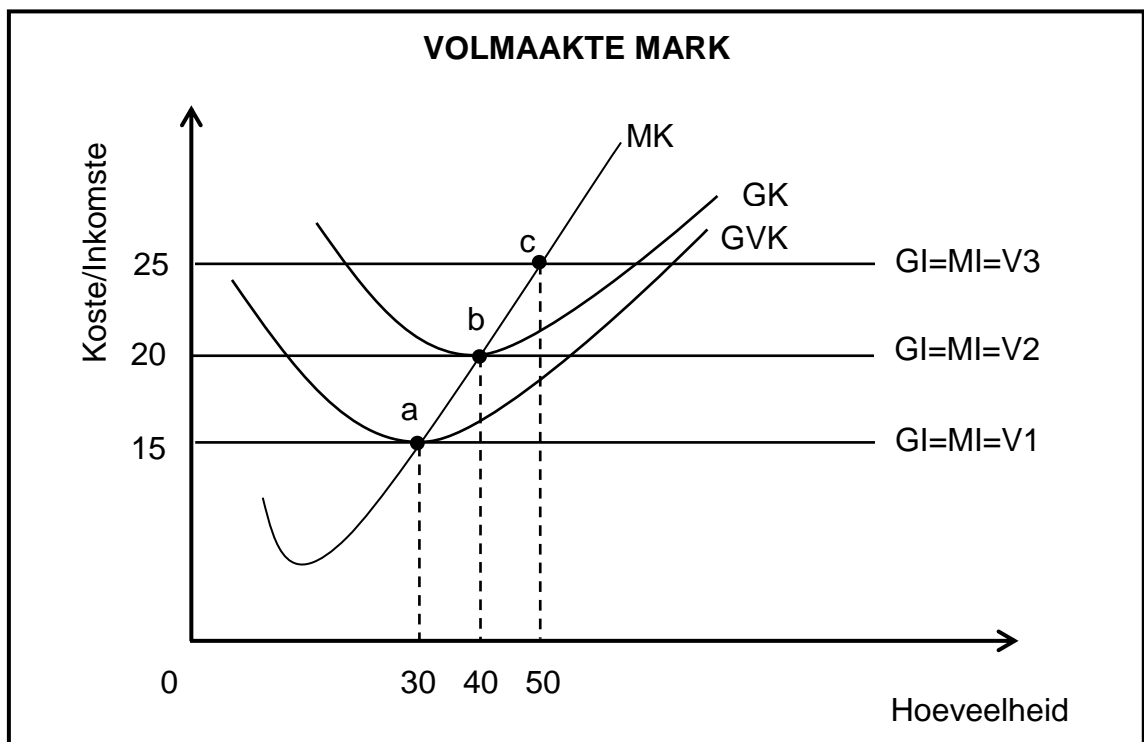
**40 PUNTE – 30 MINUTE**

2.1 Beantwoord die volgende vrae.

2.1.1 Noem enige TWEE vorme (strategieë) van nieprys-mededinging. (2 x 1) (2)

2.1.2 Hoe sal die heffing van belasting op niemerietegoedere die verbruik daarvan beïnvloed? (1 x 2) (2)

2.2 Bestudeer die grafiek hieronder en beantwoord die vrae wat volg.



2.2.1 Identifiseer die kromme (kurwe) wat die aanbodkromme in die grafiek hierbo verteenwoordig. (1)

2.2.2 Watter hoeveelheid moet die firma produseer om 'n normale wins te maak? (1)

2.2.3 Beskryf kortliks die term *marginale inkomste*. (2)

2.2.4 Waarom sal die produsent onwillig wees om 30 eenhede of minder te produseer? (2)

2.2.5 Gebruik die grafiek hierbo om die totale inkomste te bereken wanneer die prys R25 is. Toon ALLE berekeninge, die formule ingesluit. (4)

2.3 Bestudeer die uittreksel hieronder en beantwoord die vrae wat volg.

### LOONVERHOGING VIR HUISSHULPE

Die Departement van Indiensneming en Arbeid se Nasionale Minimum Loon (NML) Kommissie het 'n bo-inflasie-loonverhoging vir 2023 by die NML aanbeveel, wat die tarief vir huishulpe na R25,05 per uur kan laat toeneem. Met die verbruikersprysindeks (VPI) se gemiddeld rondom 7% in 2022 sal dit die verhoging op ongeveer 8% plaas.

'n Verhoging van R25,05 sal die maandelikse tarief tot oor R4 000 opstoot vir 'n werker wat 8 uur per dag, 20 dae per maand werk. Dit sal ongeveer R300 meer as in 2022 wees.

[Aangepas uit *Business Tech*]

- 2.3.1 Identifiseer die persentasie toename in minimum loon in die uittreksel hierbo. (1)
- 2.3.2 Noem enige EEN faktor wat die gehalte van die arbeidsmag beïnvloed. (1)
- 2.3.3 Beskryf kortliks die term *markmislukking*. (2)
- 2.3.4 Waarom sal die owerheid inmeng wanneer daar onvolmaakte mededinging in die mark is? (2)
- 2.3.5 Hoe sal minimum lone 'n negatiewe uitwerking op die werkgewers hê? (2 x 2) (4)
- 2.4 Verduidelik die rol van die *Mededingingskommissie* en *Mededingingstribunaal* as instellings wat mededinging in Suid-Afrika bevorder. (2 x 4) (8)
- 2.5 Hoe sal die voorsiening van subsidies aan produsente die ekonomie positief beïnvloed? (4 x 2) (8)
- [40]**


**VRAAG 3: KONTEMPORÊRE EKONOMIESE KWESSIES 40 PUNTE – 30 MINUTE**

3.1 Beantwoord die volgende vrae.

3.1.1 Gee enige TWEE voorbeelde van goedere wat uitgesluit word wanneer kerninflasie bereken word. (2 x 1) (2)

3.1.2 Hoe beïnvloed lugbesoedeling die omgewing? (1 x 2) (2)

3.2 Bestudeer die spotprent hieronder en beantwoord die vrae wat volg.



[Bron: [businessday.com](http://businessday.com)]

3.2.1 Identifiseer in die spotprent en inligting hierbo die instelling wat die rentekoers bepaal. (1)

3.2.2 Noem die monetêre beleidsinstrument wat met die verkoop van staatseffekte verband hou. (1)

3.2.3 Beskryf kortliks die term *geadministreerde prys-inflasie*. (2)

3.2.4 Verduidelik die voordeel van 'n algemene prysverhoging vir debiteure in die ekonomie. (2)

3.2.5 Hoe sal 'n ooraanbod van geld die ekonomie beïnvloed? (2 x 2) (4)



3.3 Bestudeer die uittreksel hieronder en beantwoord die vrae wat volg.

**INTERNASIONALE MAATREËLS WAT AANDAG GEE  
AAN OMGEWINGSPROBLEME**

Die Kyoto Protokol oor klimaatsverandering verbind geïndustrialiseerde lande om kweekhuisgasvrystellings in ooreenstemming met ooreengekome individuele teikens te beperk en verminder. Die Protokol stel bindende teikens vir vrystellingsvermindering vir 37 geïndustrialiseerde lande.

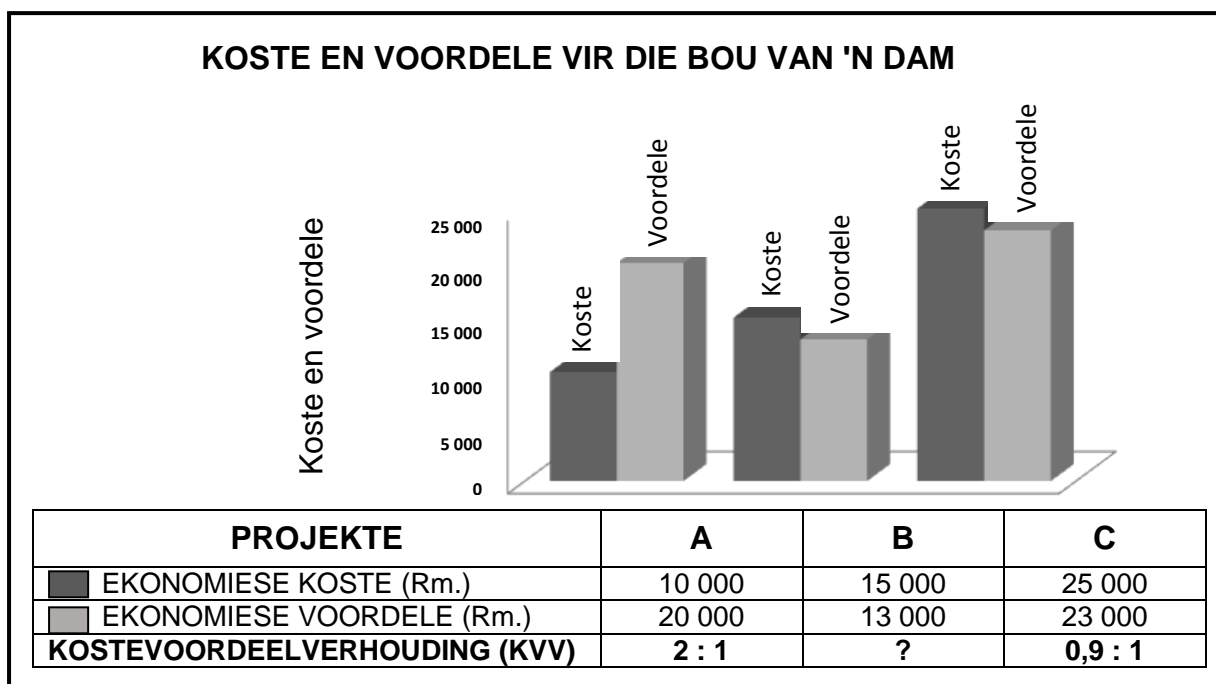
Die Stockholm Protokol en die Basel Konvensie is ander internasionale maatreëls wat aandag gee aan omgewingsprobleme.

[Bron: [www.google.com](http://www.google.com)]

- |       |   |                |
|-------|---|----------------|
| 3.3.1 | Identifiseer die internasionale ooreenkoms wat daarna streef om chemiese afval te beperk.                                 | (1)            |
| 3.3.2 | Noem EEN ander internasionale maatreël oor klimaatsverandering.   | (1)            |
| 3.3.3 | Beskryf kortliks die term <i>aardverwarming</i> .   | (2)            |
| 3.3.4 | Watter impak het gevaarlike afval op die omgewing?  | (2)            |
| 3.3.5 | Waarom het internasionale maatreëls om die uitwerking van klimaatsverandering te verminder, misluk?                       | (4)            |
| 3.4   | Bespreek kortliks die gevolge van inflasie op <i>belastingbetalers</i> en <i>nywerheidstabyliteit (nywerheidsvrede)</i> . | (2 x 4)<br>(8) |
| 3.5   | Evalueer die impak van klimaatsverandering op die ekonomie.   | (4 x 2)<br>(8) |
|       |   | <b>[40]</b>    |

**VRAAG 4: MIKRO-EKONOMIE EN KONTEMPORÊRE EKONOMIESE KWESSIES**  
**40 PUNTE – 30 MINUTE**

- 4.1 Beantwoord die volgende vrae.
  - 4.1.1 Noem enige TWEE regstellende metodes wat gebruik word om rykdom te herverdeel. (2 x 1) (2)
  - 4.1.2 Waarom misluk (vind dit moeilik) markte daarin om die omgewing te ondersteun? (1 x 2) (2)
- 4.2 Bestudeer die inligting hieronder en beantwoord die vrae wat volg.



[Aangepas uit [www.google.co.za](http://www.google.co.za)]

- 4.2.1 Identifiseer in die inligting hierbo 'n projek wat die meeste voordele het. (1)
- 4.2.2 Noem enige EEN moontlike sosiale voordeel van die bou van 'n brug. (1)
- 4.2.3 Beskryf kortliks die term *sosiale koste*. (2)
- 4.2.4 Waarom moet die owerheid 'n kostevoordeel-ontleding (-analise) uitvoer voordat met 'n nuwe projek begin word? (2)
- 4.2.5 Bepaal watter projek is die voordeligste deur die kostevoordeel-verhouding vir Projek B te bereken. Toon ALLE berekeninge. (4)

4.3 Bestudeer die spotprent hieronder en beantwoord die vrae wat volg.



[Bron: [www.google.co.za](http://www.google.co.za)]

- 4.3.1 Identifiseer in die spotprent hierbo die maatreël wat gebruik word as 'n aansporing vir mense om privaat vir die omgewing te sorg. (1)
- 4.3.2 Noem die tipe belasting wat gehef word op goedere wat eksterne omgewingskoste genereer. (1)
- 4.3.3 Beskryf kortliks die term *beskerming*. (2)
- 4.3.4 Verduidelik die rol wat onderwys in die beskerming van die omgewing speel. (2)
- 4.3.5 Hoe kan omgewingsubsidies gebruik word om omgewingsvolhoubaarheid te verseker? (2 x 2) (4)
- 4.4 Verduidelik met behulp van 'n goed benoemde grafiek *winsmaksimering* deur die krommes (kurwes) vir die totale inkomste (TI) en totale koste (TK) te gebruik. (8)
- 4.5 Evalueer die sukses van inflasietekens om inflasie in die land te bekamp. (4 x 2) (8)

[40]

**TOTAAL AFDELING B: 80**

**AFDELING C**

Beantwoord enige EEN van die twee vrae in hierdie afdeling in die ANTWOORDEBOEK.

Jou antwoord sal soos volg geassesseer word:

| STRUKTUUR VAN OPSTEL   | PUNTE-TOEKENNING         |
|--|--------------------------|
| <b>Inleiding</b><br>Die inleiding is 'n laerorde-antwoord. <ul style="list-style-type: none"> <li>• 'n Goeie begin is om die sleutelkonsep wat met die vraag verband hou, te definieer of te omskryf.</li> <li>• MOENIE enige deel van die vraag by die inleiding insluit NIE.</li> <li>• MOENIE enige deel van die inleiding by die liggaam herhaal NIE.</li> <li>• MOENIE in die inleiding noem wat jy in die liggaam gaan bespreek NIE.</li> </ul>  | Maks. 2                  |
| <b>Liggaam</b><br><b>Hoofdeel:</b> Bespreek in detail/Diepgaande bespreking/Ondersoek/<br>Bespreek krities/Analiseer/Vergelyk/Evalueer/Oonderskei/Differensieer/<br>Verduidelik/Assesseer/Debatteer<br><b>'n Maksimum van 8 punte kan vir opskrifte/voorbeelde toegeken word.</b><br><b>Addisionele deel:</b> Bespreek krities/Evalueer/Evalueer krities/Lei af/<br>Vergelyk/Oonderskei/Stel voor/Interpreteer/Debatteer/Hoe<br><b>'n Maksimum van 2 punte kan vir die blote noem van feite toegeken word.</b> | Maks. 26<br><br>Maks. 10 |
| <b>Slot</b><br>Enige hoërde-slot behoort die volgende in te sluit: <ul style="list-style-type: none"> <li>• 'n Kort samevatting van wat alreeds bespreek is, sonder die herhaling van feite wat reeds genoem is</li> <li>• Enige mening/opinie of waardeoordeel oor die feite wat bespreek is</li> <li>• Addisionele ondersteuningsinligting wat die bespreking/analise versterk</li> <li>• 'n Teenstrydige sienswyse met motivering, indien gevra</li> <li>• Aanbevelings</li> </ul>                          | Maks. 2                  |
| <b>TOTAAL</b>  | <b>40</b>                |

**VRAAG 5: MIKRO-EKONOMIE****40 PUNTE – 40 MINUTE**

- Vergelyk en kontrasteer in detail die markstrukture van *monopolistiese mededinging* met 'n *oligopolie*. (26)
  - Hoe kan samespanning die ekonomie negatief beïnvloed? (10)
- [40]**

**VRAAG 6: KONTEMPORÊRE EKONOMIESE KWESSIES 40 PUNTE – 40 MINUTE**

- Ondersoek in detail die effek van toerisme. (26)
  - Hoe kan Suid-Afrika se toerismeprofiel gebruik word om toerisme in Suid-Afrika te bevorder? (10)
- [40]**

**TOTAAL AFDELING C: 40**  
**GROOTTOTAAL: 150**