



basic education

Department:
Basic Education
REPUBLIC OF SOUTH AFRICA

**NASIONALE
SENIOR SERTIFIKAAT**

GRAAD 12

**MUSIEK V2
MODEL 2013
MEMORANDUM**

PUNTE: 30

Hierdie memorandum bestaan uit 15 bladsye.

INSTRUKSIES EN INLIGTING

1. Hierdie vraestel bestaan uit DRIE afdelings.
2. Beantwoord AL die vrae. Neem kennis dat daar keuses in VRAAG 5 is.
3. Skryf jou antwoorde op hierdie vraestel. Gebruik 'n potlood vir musieknotasie en blou of swart ink vir die ander antwoorde.
4. Hierdie eksamen sal geskryf word terwyl jy na 'n CD luister.
5. Die musikonderwyser van die sentrum moet die eksamen in die teenwoordigheid van die opsiener afneem.
6. Die laaste bladsy van hierdie vraestel is manuskrippapier wat vir rofwerk bedoel is. Jy mag hierdie bladsy verwyder.

INSTRUKSIES AAN DIE PERSOON WAT MET DIE KLANKTOERUSTING WERK

1. Die instruksies vir die musikonderwyser verskyn in raampies.
2. Elke musiekuittreksel (snit) moet die vereiste getal kere, soos in die vraestel gespesifiseer, gespeel word.
3. Laat genoeg tyd tussen die snitte toe sodat kandidate tyd het om te dink en hulle antwoorde neer te skryf voordat die volgende snit gespeel word.
4. Die nommer van die snit moet elke keer duidelik aangekondig word voordat dit gespeel word.
5. 'n CD-speler wat met batterye werk, moet beskikbaar wees in geval van 'n kragonderbreking.

NASIENROOSTER

| VRAAG | TOTALE PUNTE | NASIENER | MODERATOR |
|--------------------|---------------------|-----------------|------------------|
| AFDELING A | | | |
| 1 | 2 | | |
| 2 | 2 | | |
| 3 | 5 | | |
| SUBTOTAAL | 9 | | |
| | | | |
| AFDELING B | | | |
| 4 | 8 | | |
| 5 | 4 | | |
| SUBTOTAAL | 12 | | |
| | | | |
| AFDELING C | | | |
| 6 | 9 | | |
| SUBTOTAAL | 9 | | |
| | | | |
| GROOTTOTAAL | 30 | | |

VRAAG 3

Lees en bestudeer die vrae vir EEN minuut.

Speel Snit 3 EEN keer vir 'n algemene oorsig.

Sixteen Going on Seventeen

Rodgers and Hammerstein

You are six-teen, go-ing on sev-en-teen, Ba-by, it's time to think!

5 (a) (d)

Bet-ter be-ware, be can-ny and care-ful, Ba-by, you're on the brink!

9

You are six-teen, go-ing on sev-en-teen, Fel-lows will fall in line.

13 (a) (e)

Ea-ger young lads and rou-és and cads will of-fer you food and wine.

17 (b)

To-tal - ly un-pre - pared are you to face a world of men.

21 (c)

Tim-id and shy and scared are you of things be-yond your ken.

25

You need some-one old-er and wis-er tell-ing you what to do.____

29

I am sev - en - teen, go - ing on eight - een,

31 (f)

I'll____ take care____ of you._____

Speel Snit 4 TWEE keer.

- 3.1 Luister na die musiek vanaf maat 1–16 en benoem die ritmiese eienskap en komposisietegniek wat in mate 5–6 en 13–14 by (a) voorkom.

Ritmiese eienskap: *Sinkopasie = 1 punt*
 Komposisietegniek: *Sekwens/Patroon en Sekwens = 1 punt*

(2)

Speel Snit 5 TWEE keer.

- 3.2 Luister na die musiek vanaf maat 17–20. Vul die ontbrekende nieharmoniese noot by (b) op die partituur in en identifiseer die tipe nieharmoniese noot wat gebruik is, byvoorbeeld (f) Deurgangsnoot.

(b) *Korrekte notasie (sien partituur) = 1 punt*
(Onder-) Hulpnoot = 1 punt

(2)

Speel Snit 6 VIER keer. Wag EEN minuut tussen elke herhaling.

- 3.3 Luister na die musiek vanaf maat 21–24 en vul die ontbrekende note by (c) in.

Antwoord:

1 punt per regmerkie (✓) 6 ÷ 2 = 3 punte
(Beide ritme and toonhoogte moet korrek wees)

(3)

Speel Snit 7 TWEE keer.

- 3.4 Luister na maat 1–16. Identifiseer en skryf die name van die kadense by (d) en (e) neer.

(d) *Onvoltooide kadens = 1 punt*
 (e) *Voltooide kadens = 1 punt*

(2)

Speel Snit 8 EEN keer.

- 3.5 Luister na maat 29–34. Watter interval hoor jy op die woord 'I'll' by (f)?
Maak 'n kruisie (X) in die blokkie van jou keuse.

| | | | |
|---------------------------------|------------------------|------------------------|------------------------|
| Volmaakte 5 ^{de} | Majeur 6 ^{de} | Mineur 6 ^{de} | Majeur 7 ^{de} |
| Majeur 6 ^{de} = 1 punt | | | |

(10 ÷ 2)

(1)

[5]

Voorbeeld van partituur:

Sixteen Going on Seventeen

Rodgers and Hammerstein

You are six-teen, go-ing on sev-en-teen, Ba-by, it's time to think!

Bet-ter be-ware, be can-ny and care-ful, Ba-by, you're on the brink!

You are six-teen, go-ing on sev-en-teen, Fel-lows will fall in line.

Ea-ger young lads and rou-és and cads will of-fer you food and wine.

To-tal - ly un-pre - pared are you to face a world of men.

Tim-id and shy and scared are you of things be-yond your ken.

You need some-one old-er and wis-er tell-ing you what to do.____

I am sev - en - teen, go - ing on eight - een,

I'll____ take care____ of you._____

TOTAAL AFDELING A: 9

AFDELING B: HERKENNING VAN MUSIEKBEGRIPE**VRAAG 4: ALGEMENE LUISTER**

Luister na die uittreksels hieronder en beantwoord die vrae wat volg.

4.1 Speel Snit 9 DRIE keer.

4.1.1 Noem die houtblaasinstrument wat jy in die inleiding hoor.

Klarinet = 1 punt (1)

4.1.2 Watter slaginstrument hoor jy in die inleiding? Maak 'n kruisie (X) in die blokkie van jou keuse.

| | | | |
|----------|------|----------|---------|
| Xilofoon | Klok | Driehoek | Klavier |
|----------|------|----------|---------|

Klok = 1 punt (1)

4.1.3 Noem die tipe solostem.

Sopraan = 1 punt (1)

4.1.4 Identifiseer TWEE ritmiese eienskappe in die vokale lyn wat aandui dat hierdie werk deur jazz beïnvloed is.

Sinkopasie = ½ punt; Swing-ritme = ½ punt (1)

4.2 Speel Snit 10 DRIE keer.

4.2.1 Met watter stylperiode assosieer jy hierdie uittreksel?

Baroktydperk = 1 punt (1)

4.2.2 Identifiseer EEN aspek van die begeleiding om jou antwoord op VRAAG 4.2.1 te staaf.

Basso continuo of Klawesimbel/Tjello = 1 punt (1)

4.2.3 Benoem die instrument wat die melodie speel.

Blokfluit/Fluit = 1 punt (1)

4.2.4 Hoeveel instrumente speel in hierdie uittreksel?

Drie = 1 punt (1)

4.3 Speel Snit 11 DRIE keer.

4.3.1 Met watter jazz-styl assosieer jy hierdie uittreksel?

New Orleans-styl/Dixieland = 1 punt (1)

4.3.2 Noem die solo-instrument wat jy aan die begin van hierdie uittreksel hoor.

Klarinet = 1 punt (1)

4.3.3 Watter tipe ensemble begelei die solo-instrument? Maak 'n kruisie (X) in die blokkie van jou keuse.

| | | | |
|---------------------|--------------|-----------|------------|
| Koperblaas-ensemble | Strykkwartet | Jazz-orke | 'Big band' |
|---------------------|--------------|-----------|------------|

'Jazz Band' = 1 punt (1)

4.3.4 Met watter jazz-vorm assosieer jy hierdie uittreksel?

12-maat blues = 1 punt (1)4.4 Speel Snit 12 DRIE keer.

4.4.1 Met watter musiekstyl assosieer jy hierdie uittreksel?

Suid-Afrikaanse populêre musiek = 1 punt (1)


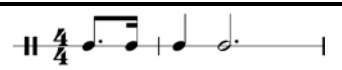

4.4.2 Benoem die tydmaatteken.

4/4 = 1 punt (1)

4.4.3 Beskryf die tekstuur van die eerste vier mate van hierdie uittreksel. Maak 'n kruisie (X) in die blokkie van jou keuse.

| | | | |
|------------|------------|------------|-------------|
| Homofonies | Polifonies | Monofonies | Multifonies |
|------------|------------|------------|-------------|

Homofonies = 1 punt (1)4.4.4 Watter van die volgende ritmiese patrone (A of B of C) word gebruik vir die woord *Umqombhi*? Maak 'n kruisie (X) in die blokkie van jou keuse.

| | | |
|--|---|---|
| A | B | C |
|  Um-qom - bot - hi |  Um-qom-bot - hi |  Um-qom - bot-hi... |

C = 1 punt (1)(16 ÷ 2) **[8]**

VRAAG 5**Beantwoord VRAAG 5.1 OF 5.2 OF 5.3.**

Lees en bestudeer die vrae vir EEN minuut.

Speel Snit 13, 14 en 15 direk na mekaar sodat kandidate kan kies watter vraag om te beantwoord.

Speel Snit 13 DRIE keer.

5.1 Luister na Snit 13 en beantwoord die vrae wat volg.

5.1.1 Identifiseer die genre van hierdie werk.

Konsert-ouverture = 1 punt

(1)

5.1.2 Met watter komponis assosieer jy hierdie werk?

P Tchaikovski = 1 punt

(1)

5.1.3 Beantwoord TWEE van die volgende vrae:

(a) Skryf 'n gepaste Italiaanse term vir die tempo van hierdie uittreksel neer.

(b) Wat is die tonaliteit van hierdie uittreksel?

(c) Identifiseer TWEE houtblaasinstrumente in hierdie uittreksel.

(a) Tempo: Andante = 1 punt
(b) Tonaliteit: Mineur = 1 punt
(c) Instrumente: Klarinette = ½ punt
Fagotte = ½ punt

(2)
[4]

OF

Speel Snit 14 DRIE keer.

5.2 Luister na Snit 14 en beantwoord die vrae wat volg.

5.2.1 Identifiseer die styl van hierdie werk.

Modale Jazz = 1 punt

(1)

5.2.2 Met watter musikant ('performer') assosieer jy hierdie werk?

Miles Davis = 1 punt

(1)

5.2.3 Beantwoord TWEE van die volgende vrae.

(a) Skryf 'n gepaste term vir die tempo van hierdie uittreksel neer.

(b) Wat is die tonaliteit van hierdie uittreksel?

(c) Identifiseer TWEE instrumente in hierdie uittreksel.

(a) Tempo: Andante/Matige tempo = 1 punt

(b) Tonaliteit: Gebaseer op D Doriese modus/Gebruik modale improvisasie

(Enige 1 = 1 punt)

(c) Instrumente: Trompet/Kontrabas/Klavier/Tromstel

(Enige 2 = ½ punt elk = 1 punt)

(2)

[4]

OF

Speel Snit 15 DRIE keer.

5.3 Luister na Snit 15 en beantwoord die vrae wat volg.

5.3.1 Identifiseer die styl van hierdie werk.

Inheemse Afrika-musiek = 1 punt

(1)

5.3.2 Met watter musikant assosieer jy hierdie werk?

Mama Madosini (Madosini Manqina – Koningin van Suid-Afrikaanse Musiek uit Pondoland) = 1 punt

(1)

5.3.3 Beantwoord TWEE van die volgende vrae.

(a) Skryf 'n gepaste term vir die tempo van hierdie uittreksel neer.

(b) Wat is die korrekte sangtegniek wat deur een van die begeleidende sangers gebruik word? Maak 'n kruisie (X) in die blokkie van jou keuse.

| | | |
|--------------------|----------|------------|
| Onomatopeïese sang | Ululasie | Krepitasie |
|--------------------|----------|------------|

(c) Identifiseer TWEE instrumente in hierdie uittreksel.

(a) Tempo: Matige tempo = 1 punt
(b) Ululasie = 1 punt
(c) Instrumente: Uhadi en Umrhubhe en stem
(Enige 2 = ½ punt elk = 1 punt)

(2)

[4]

TOTAAL AFDELING B: 12

AFDELING C: VORM**VRAAG 6**

Lees die vrae hieronder deur.

Speel Snit 16 EEN keer vir 'n algemene oorsig.

Bestudeer die partituur terwyl jy na die uittreksel luister.

Medium soft mallets

Interludium II

Niel van der Watt

Calmly ♩ = 92

Marimba

5

9

13

17

NSS – Graad 11 Model – Memorandum

21

mp f mp

Musical score for measures 21-24. The piece is in G major (one sharp) and 4/4 time. Measures 21-24 feature a piano accompaniment with a steady eighth-note bass line and chords in the right hand. Dynamic markings are *mp*, *f*, and *mp*. Accents are placed over the first notes of measures 21, 22, and 23.

25

mf

Musical score for measures 25-28. The piano accompaniment continues with eighth-note patterns. The dynamic marking is *mf*. Accents are placed over the first notes of measures 25, 26, and 28.

29

Musical score for measures 29-32. The piano accompaniment continues with eighth-note patterns. Accents are placed over the first notes of measures 29, 30, and 32.

33

f mf

Musical score for measures 33-36. Measures 33-36 feature a piano accompaniment with a steady eighth-note bass line and chords in the right hand. Dynamic markings are *f* and *mf*. Accents are placed over the first notes of measures 33, 34, and 36.

37

Rit. mp p

Musical score for measures 37-40. Measures 37-40 feature a piano accompaniment with a steady eighth-note bass line and chords in the right hand. Dynamic markings are *mp* and *p*. A *Rit.* (ritardando) marking is present above measure 38. Accents are placed over the first notes of measures 37, 38, and 40. The piece concludes with a double bar line.

Speel Snit 16 NOG EEN keer.

- 6.1 Doen 'n volledige vormontleding van hierdie die stuk deur die gegewe tabel in te vul.

| SEKSIES | MAATNOMMERS | TOONSOORTE |
|--------------------------|-------------|----------------|
| A√ | 1-8√ | G maj√ |
| B√ | 9-16√ | G maj – D maj√ |
| A√ | 17-24√ | G maj√ |
| B ¹ (C) √ | 25-32√ | G maj – D maj√ |
| Coda (A ¹) √ | 33-40√ | G maj√ |

1 punt per (√) = 15÷3=5

(5)

- 6.2 Noem die oorwegende struktuur van die werk.

*Tweeledige vorm met Koda **OF** Elemente van Rondo-vorm = 1 punt*

(1)

- 6.3 Lewer kommentaar op die ooreenkoms en/of verskil tussen maat 9–16 en maat 25–32.

*Materiaal van die LH-party in mate 9–16 verskyn in die RH-party van mate 25–32 in 'n gevarieerde vorm en omgekeerd = ½ punt
Beide seksies begin in G majeure en moduleer na D majeure = ½ punt*

(1)

- 6.4 Wat is ongewoon aan die ritmiese groepering van die regterhandparty van maat 33–36?

*Die normale groepering van 2+2+2+2 of 4+4 word laat vaar ter wille van die 3+3+2-groepering (Bossa Nova-ritme) = 1 punt
Die gevolg is 'n poliritmiese effek eie aan Afrikamusiek.*

(1)

- 6.5 **Speel Snit 16 NOG EEN keer.**

Maak 'n kruisie (X) in die blokkie wat, na jou mening, die styl verteenwoordig wat die grootste invloed op die komposisie van hierdie werk gehad het.

| | |
|---------------------------|-------------------------------------|
| Jazz | <input type="checkbox"/> |
| Tradisionele Afrikamusiek | <input checked="" type="checkbox"/> |
| Westerse Kunsmusiek | <input type="checkbox"/> |
| Klassieke Indiese Musiek | <input type="checkbox"/> |
| Afro-pop-musiek | <input type="checkbox"/> |
| Latyns-Amerikaanse Musiek | <input type="checkbox"/> |

(1)

TOTAAL AFDELING C: 9
GROOTTOTAAL: 30